

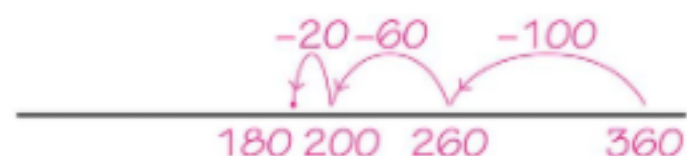
DOEL 1

1

Welke som hoort erbij?

Reken uit op de getallenlijn.


Erik heeft 360 euro gespaard.  
Hij koopt een telefoon van 180 euro.  
Hoeveel geld heeft hij nog over?



som:  $360 - 180 = 180$

antwoord: 180 euro

In een pak rijst zit 500 gram.  
Lisa heeft 230 gram nodig.  
Hoeveel gram rijst blijft er over?



som:  $500 - 230 = 270$

antwoord: 270 gram

2

Reken uit.

$6 - 2 = 4$	$7 - 4 = 3$	$9 - 3 = 6$
$60 - 20 = 40$	$70 - 40 = 30$	$90 - 30 = 60$
$600 - 200 = 400$	$700 - 400 = 300$	$900 - 300 = 600$



3

Reken uit op de getallenlijn.

Zet de goede letter naast de som.

$560 - 30 = 530$	<u>P</u>
$820 - 300 = 520$	<u>R</u>
$720 - 80 = 640$	<u>I</u>
$640 - 170 = 470$	<u>M</u>
$420 - 240 = 180$	<u>A</u>

530 = P  
180 = A  
640 = I  
520 = R  
170 = E  
650 = K  
470 = M



DOEL 2

1

Welke som hoort erbij?

Reken uit.

Schrijf de hulpsommen op.

In een ton past 35 liter.  
Zes mensen gaan op pad met volle tonnen.  
Hoeveel liter kunnen ze meenemen?

som:  $6 \times 35 = 210$

antwoord: 210 liter

hulpsommen:  $6 \times 30 = 180$  en

$6 \times 5 = 30$

Bij de vierdaagse loop je 4 dagen  
achter elkaar.  
Een wandelaar kiest voor de afstand  
van 25 kilometer.  
Hoeveel heeft hij gelopen na 4 dagen?

som:  $4 \times 25 = 100$

antwoord: 100 km

hulpsommen:  $4 \times 20 = 80$  en

$4 \times 5 = 20$

2

Reken uit.

$120 + 18$

$3 \times 46 = 138$

$360 + 16$

$4 \times 94 = 376$

$280 + 21$

$7 \times 43 = 301$

$240 + 36$

$6 \times 46 = 276$

$300 + 35$

$5 \times 67 = 335$

$150 + 45$

$5 \times 39 = 195$

3

Hoeveel kost het?

Welke som hoort erbij? Reken uit.

voor 2 kinderen:  
toegang pretpark:

$2 \times 36 = 72$  72 euro

trein:

$2 \times 21 = 42$  42 euro

pannenkoek en drinken:

$2 \times 14 = 28$  28 euro

voor 4 kinderen:  
toegang pretpark:

$4 \times 36 = 144$  144 euro

trein:

$4 \times 21 = 84$  84 euro

pannenkoek en drinken:

$4 \times 14 = 56$  56 euro



trein



eten en drinken