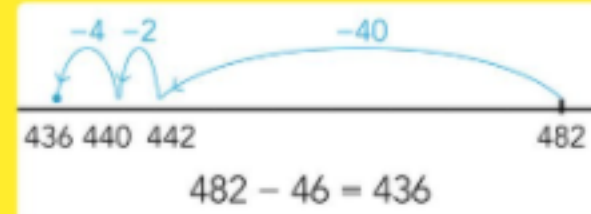
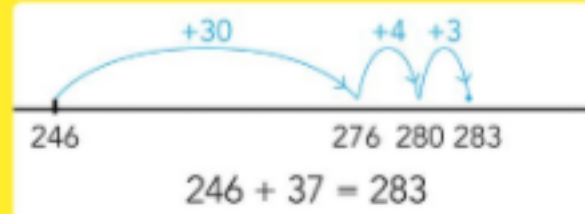


**DOEL 1**

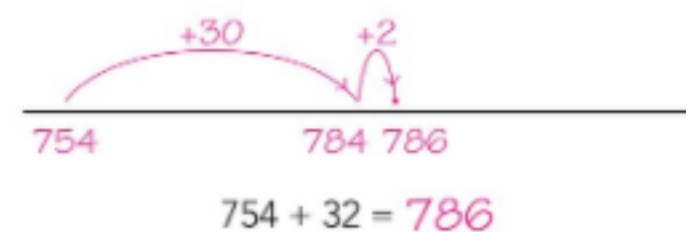
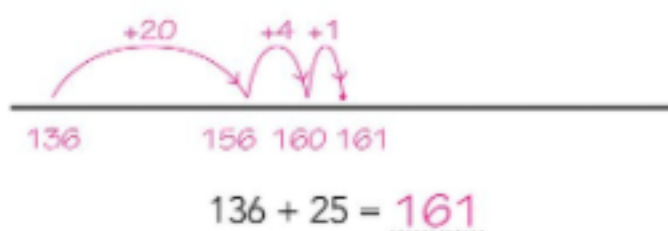
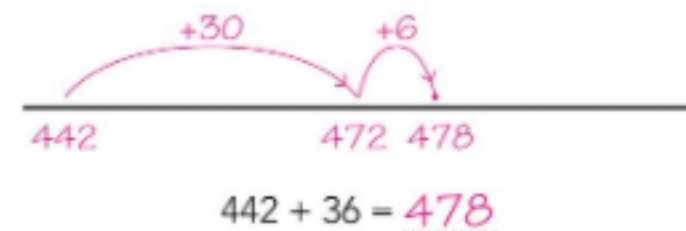
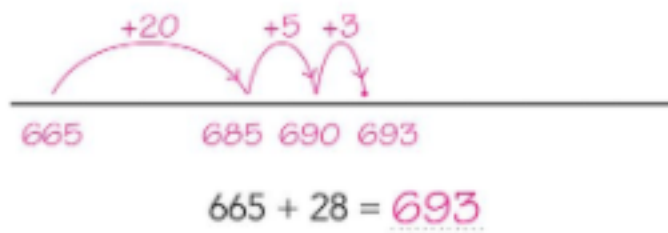
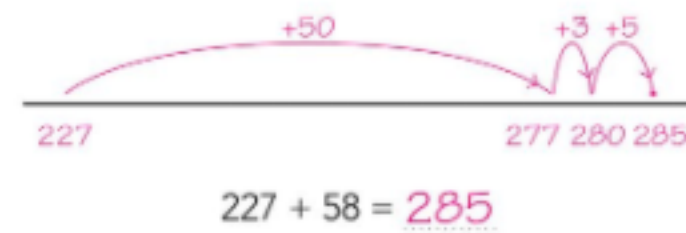
Je leert optellen en aftrekken tot en met 1000 in maximaal 3 sprongen met de strategie: rijgen, bij sommen als  $246 + 37$  en  $482 - 46$ .

**HULP**



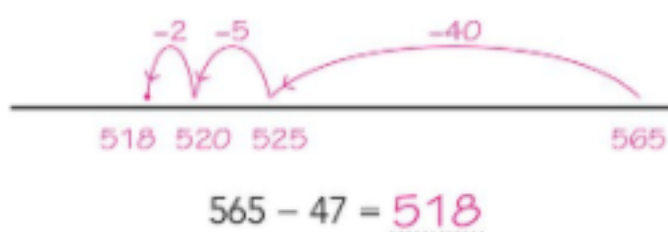
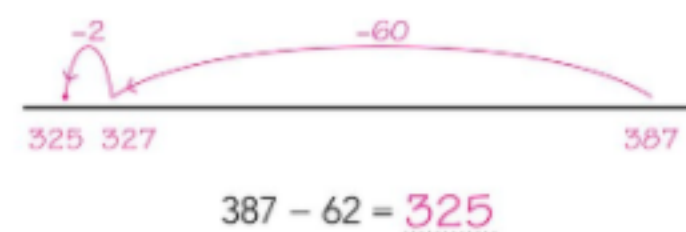
**1**

Reken uit op de getallenlijn.



**2**

Reken uit op de getallenlijn. Maak de getallenlijn in je schrift.



$693 - 37 = 656$

$567 - 38 = 529$

$752 - 27 = 725$

$276 - 35 = 241$

$474 - 18 = 456$

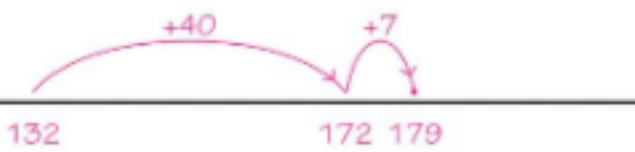
$184 - 46 = 138$

**3**

Welke som hoort erbij?

Reken uit op de getallenlijn.

Sam heeft 132 euro.  
Hij krijgt 47 euro.  
Hoeveel euro heeft Sam nu?



antwoord: 179 euro

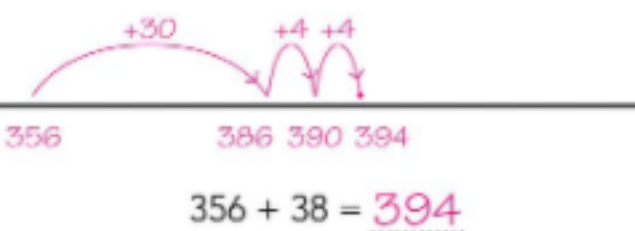
Ole bezorgt deze week 367 kranten.  
Dat zijn er 34 meer dan vorige week.  
Hoeveel kranten heeft hij vorige week bezorgd?



antwoord: 333 kranten

**4**

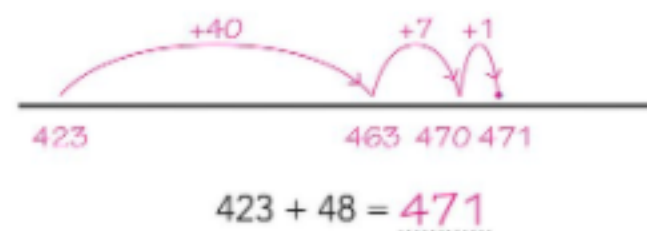
Reken uit op de getallenlijn. Maak de getallenlijn in je schrift.



$975 - 47 = 928$

$627 + 46 = 673$

$843 - 36 = 807$



$646 - 27 = 619$

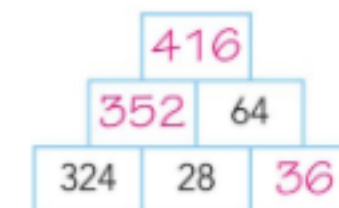
$516 + 67 = 583$

$754 - 33 = 721$

**5**

Maak de piramide af.

Bedenk zelf ook een piramide.



**KIJK TERUG**

Welke som vind je het moeilijkst? Eigen antwoord.

$146 + 37 =$

$482 - 46 =$

Waarom kies je die som?